

Concurso Público para provimento dos cargos do quadro de pessoal
Técnico-Administrativo em Educação da UFG - 2023

FONOAUDIÓLOGO

CADERNO DE QUESTÕES

25/06/2023

DISCIPLINA	QUESTÕES
Língua Portuguesa	01 a 10
Matemática	11 a 20
Atualidades e História, Geografia e Conhecimentos Gerais de Goiás	21 a 25
Noções de Informática	26 a 30
Saúde Pública	31 a 40
Conhecimentos Específicos do Cargo	41 a 60

SOMENTE ABRA ESTE CADERNO QUANDO AUTORIZADO

LEIA ATENTAMENTE AS INSTRUÇÕES

Atenção: Transcreva no espaço designado da sua FICHA DE IDENTIFICAÇÃO, com sua caligrafia usual, considerando as letras maiúsculas e minúsculas, a seguinte frase:

Estive andando pelas montanhas.

1. Quando for autorizado abrir o caderno de questões, verifique se ele está completo ou se apresenta imperfeições gráficas que possam gerar dúvidas. Se isso ocorrer, solicite outro exemplar ao fiscal de sala.
2. Este caderno é composto por questões de múltipla escolha. Cada questão apresenta quatro alternativas de respostas, das quais apenas uma é a correta.
3. O cartão-resposta é personalizado e não será substituído em caso de erro no preenchimento. Ao recebê-lo, confira se seus dados estão impressos corretamente. Se houver erro de impressão, notifique ao fiscal de sala.
4. Preencha, integralmente, um alvéolo por questão, utilizando caneta de tinta AZUL ou PRETA, fabricada em material transparente. A questão deixada em branco, com rasura ou com marcação dupla terá pontuação ZERO.

CONCURSO PÚBLICO

Leia o Texto 1 para responder às questões de **01 a 03**.

Texto 1**Discurso de Gettysburg**

Cumpre-nos, antes, a nós, os vivos, dedicarmo-nos hoje à obra inacabada até este ponto tão notavelmente adiantada pelos que aqui combateram. Antes, cumpre-nos a nós, os presentes, dedicarmo-nos à importante tarefa que temos pela frente — que estes mortos veneráveis nos inspirem a uma maior devoção à causa pela qual deram a última medida transbordante de devoção — que todos nós aqui presentes solenemente admitamos que esses homens não morreram em vão, que esta Nação, com a graça de Deus, renasça na liberdade, e que o governo do povo, pelo povo e para o povo jamais desapareça da face da Terra.

LINCOLN, Abraham. Cemitério Militar de Gettysburg, Pensilvânia, Estados Unidos. Disponível em: <https://pt.wikipedia.org/wiki/Discurso_de_Gettysburg>. Acesso em: 02 mai. 2023

QUESTÃO 01

O discurso político é um gênero textual argumentativo em que se defendem ideias e convoca-se o público a pensar sobre o caminho que um país ou uma comunidade deve tomar. Nesse discurso de Abraham Lincoln, as estruturas linguísticas mais recorrentes do gênero são

- (A) o uso de orações coordenadas diretas.
- (B) a invocação retórica do sagrado.
- (C) o uso de verbos conjugados no futuro.
- (D) as seqüências injuntivas.

QUESTÃO 02

O discurso de Gettysburg está semanticamente estruturado pela

- (A) similaridade entre vivos-presentes e mortos-esquecidos.
- (B) lembrança de que o trabalho dos combatentes mortos deve inspirar os vivos.
- (C) ideia de que a Nação norte-americana apresenta-se como uma obra acabada.
- (D) crença de que Deus fará renascer a Nação destruída pela guerra.

RASCUNHO**QUESTÃO 03**

Na seqüência “o governo do povo, pelo povo e para o povo” as preposições indicam, respectivamente:

- (A) pertencente a; feito por; destinado a.
- (B) gerido por; junto com; obra de.
- (C) parte do; a par de; instruído para.
- (D) a fim de; através de; concebido por.

Leia o Texto 2 para responder às questões de **04 a 06**.

Texto 2**A ordem natural das coisas**

Rap de Emicida

A merendeira desce, o ônibus sai
Dona Maria já se foi, só depois é que o sol nasce
De madrugada que as aranha desce no breu
E amantes ofegantes vão pro mundo de Morfeu
E o sol só vem depois
O sol só vem depois
É o astro rei, okay, mas vem depois
O sol só vem depois

Album AmarElo. Sony Music, 2019

QUESTÃO 04

A focalização é um fator de textualidade por meio do qual o título direciona a leitura do texto. Assim, “A ordem natural das coisas”, segundo o rap, é

- (A) as aranhas acordarem enquanto os trabalhadores dormem.
- (B) os casais se amarem antes que o dia comece.
- (C) os trabalhadores estarem na rua antes que o sol nasça.
- (D) dona Maria acordar depois da merendeira.

QUESTÃO 05

No rap de Emicida, a principal estratégia de coerência caracteriza-se pela

- (A) progressão temática.
- (B) referência ao mito de Morfeu.
- (C) utilização do refrão.
- (D) fusão entre língua falada e escrita.

RASCUNHO

QUESTÃO 06

Segundo as regras da norma culta da língua portuguesa, no trecho “que as aranha desce no breu” há um desvio de

- (A) regência verbal.
- (B) acentuação gráfica.
- (C) concordância verbo-nominal.
- (D) colocação pronominal.

Leia o Texto 3 para responder às questões de **07** a **10**.

Texto 3**Em cinco anos, garimpo faz a qualidade da água cair**
Italo Wolff para Jornal Opção

A qualidade da água em algumas regiões da bacia do rio Itacaiúnas, afluente do Rio Tocantins, variou de boa para muito ruim em apenas cinco anos devido ao aumento do garimpo na Província Mineral de Carajás, no Pará. A constatação é de estudo feito por pesquisadores do Instituto Tecnológico do Vale (ITV), Universidade Federal do Pará (UFPA), Universidade Federal da Amazônia (UFAM) e Serviço Geológico do Brasil (SGB-CPRM) em parceria com cientistas da Universidade Central de Punjab, na Índia, e publicado na terça-feira, 25, na revista “Environmental Pollution”.

A pesquisa analisou e comparou os componentes físico-químicos e biológicos das águas em 42 pontos de coleta na bacia do rio Itacaiúnas entre os anos de 2017 e 2022. Na comparação, foram registradas concentrações de elementos potencialmente tóxicos acima dos limites regulatórios para uso de água doce delimitados pelo Conselho Nacional do Meio Ambiente (Conama) e para consumo humano, de acordo com diretrizes do Ministério da Saúde. Entre os elementos químicos registrados acima dos limites aceitáveis estão manganês, alumínio, bário, chumbo, ferro, cobre, cobalto, cromo, níquel, vanádio e zinco.

De acordo com a pesquisa, a principal causa para esse impacto na qualidade da água é o crescimento do garimpo na região. Com o auxílio de imagens de satélite, os pesquisadores constataram entre 2017 e 2021 o crescimento de 1500 hectares (2883%) de cicatrizes deixadas pelo garimpo, área equivalente a 2100 campos de futebol. “Observamos um elevado crescimento de garimpos de ouro, ao longo do curso dos rios, e de manganês na Serra do Sereno”, afirma Gabriel Salomão, pesquisador adjunto no grupo de Geologia Ambiental e Recursos Hídricos do ITV e autor principal do estudo.

Disponível em: <<https://www.jornalopcao.com.br/colunas-e-blogs/ciencia/em-cinco-anos-garimpo-faz-a-qualidade-da-agua-ir-de-boa-para-muito-ruim-em-afluente-do-rio-tocantins-485683/>>. Acesso em: 10 mai. 2023.

QUESTÃO 07

O texto escrito para o Jornal Opção é baseado em um estudo feito por pesquisadores de diferentes institutos nacionais e internacionais; o trabalho do autor do texto foi resumir os resultados do estudo. Por isso, esse texto é classificado como

- (A) relatório científico.
- (B) texto de divulgação científica.
- (C) dissertação argumentativa-científica.
- (D) parecer técnico-científico.

QUESTÃO 08

No texto de Italo Wolff, predominam as sequências tipológicas

- (A) argumentativas e dialogais.
- (B) narrativas e injuntivas.
- (C) injuntivas e argumentativas.
- (D) descritivas e expositivas.

QUESTÃO 09

No período, “os pesquisadores constataram entre 2017 e 2021 o crescimento de 1500 hectares (2883%) de cicatrizes deixadas pelo garimpo, área equivalente a 2100 campos de futebol”, a palavra “cicatrizes” funciona como

- (A) eufemismo.
- (B) silepse.
- (C) metáfora.
- (D) antítese.

QUESTÃO 10

No período “A qualidade da água em algumas regiões da bacia do rio Itacaiúnas, afluente do Rio Tocantins, variou de boa para muito ruim em apenas cinco anos devido ao aumento do garimpo na Província Mineral de Carajás, no Pará”, a expressão sublinhada classifica-se como

- (A) locução prepositiva de causa.
- (B) oração coordenada explicativa.
- (C) oração subordinada adverbial.
- (D) adjunto adnominal adjetiva.

QUESTÃO 11

A tabela a seguir é oriunda de um estudo ambiental sobre a variação da área da cobertura florestal, ao longo dos anos, por região, da faixa territorial conhecida como *Chure Terai Madhesh Lanscape* (CTML), no Nepal, habitat de toda a diversidade de elefantes desse país.

Área da cobertura florestal do CTML, em km², por região, em determinados anos

Região	Ano			
	1930	1975	2000	2020
Oriental	4 607	4 084	3 781	3 548
Central	4 336	4 162	3 917	3 771
Ocidental	6 703	5 590	5 186	4 993
Extremo Oeste	8 667	7 482	7 167	6 754
Total	24 313	21 318	20 051	19 066

RAM, A.K., YADAV, N.K., KANDEL, P.N. et al. Tracking forest loss and fragmentation between 1930 and 2020 in Asian elephant (*Elephas maximus*) range in Nepal. *Sci Rep* 11, 19514 (2021). Disponível em: <<https://doi.org/10.1038/s41598-021-98327-8>>. Acesso em: 12 mai. 2023. [Adaptado].

Preocupados com as maiores reduções relativas da cobertura florestal em cada região, os pesquisadores compararam, em porcentagem, o valor da redução da área em relação ao ano inicial do período, respectivamente, dos seguintes períodos: de 1930 a 1975; de 1975 a 2000 e de 2000 a 2020. Desse modo, o quadro que indica a região com a maior redução, em porcentagem, em cada período é:

(A)

Períodos	Região com maior redução, em porcentagem
1930 - 1975	Extremo Oeste
1975 - 2000	Ocidental
2000 - 2020	Extremo Oeste

(B)

Períodos	Região com maior redução, em porcentagem
1930 - 1975	Ocidental
1975 - 2000	Oriental
2000 - 2020	Oriental

(C)

Períodos	Região com maior redução, em porcentagem
1930 - 1975	Central
1975 - 2000	Extremo Oeste
2000 - 2020	Ocidental

(D)

Períodos	Região com maior redução, em porcentagem
1930 - 1975	Oriental
1975 - 2000	Central
2000 - 2020	Central

QUESTÃO 12

Em uma prova de salto em distância, um atleta obteve uma média aritmética de 8,03 m, considerando três saltos realizados. Sabendo que seu segundo salto foi 3 cm superior ao primeiro e que o terceiro salto foi 12 cm inferior ao segundo, a distância do primeiro salto, em metros, foi

- (A) 7,93.
 (B) 7,97.
 (C) 8,01.
 (D) 8,05.

QUESTÃO 13

Uma fábrica de móveis consegue produzir entre 30 e 70 mesas por dia, de modo que o custo de cada mesa seja dado pela função: $C(x) = x^2 - 120x + 5000$, em que x representa a quantidade de mesas produzidas. Sabendo que o preço de venda de cada mesa é R\$ 2.900,00, se o custo de produção for mínimo, o lucro aproximado por mesa dessa fábrica, em porcentagem, em relação ao custo é:

- (A) 1070%.
 (B) 107%.
 (C) 10,7%.
 (D) 1,07%.

QUESTÃO 14

Em uma indústria de processamento de suco de laranja, o trabalho é realizado por um conjunto de máquinas, todas com mesma capacidade de processamento por hora, independentemente da quantidade de laranjas ou de sua variedade. Assim, diante de dois carregamentos de laranja, um com laranja baiana e outro com laranja pera, na primeira metade do dia, todas as máquinas foram usadas para processar a laranja baiana. Porém, na segunda metade do dia, metade das máquinas foi redirecionada para processar a laranja pera, enquanto a outra metade permaneceu no trabalho com a laranja baiana. Considerando que, ao final do dia, as máquinas haviam processado todas as laranjas dos dois carregamentos, a relação entre a quantidade de toneladas, p , da laranja pera e quantidade de toneladas, b , da laranja baiana é dada por:

- (A) $p = b$.
 (B) $p = \frac{b}{2}$.
 (C) $p = \frac{2b}{3}$.
 (D) $p = \frac{b}{3}$.

QUESTÃO 15

Leia o texto a seguir.

Como um cálculo criado há mais de 500 anos pode te ajudar a ficar rico

O livro "Summa Arithmetica", do frade italiano Luca Pacioli, publicado em 1494, é considerado o primeiro manual de contabilidade da história. Um trecho do livro pode ser aliado importante de quem planeja investir. Trata-se da regra do número 72, que mostra em quanto tempo o capital inicial, remunerado a uma taxa fixa, dobraria – ou em quanto tempo a riqueza de um país dobraria se crescesse a determinada taxa. Por exemplo, um investimento remunerado a uma taxa fixa de 10% ao ano dobraria em 7,2 anos, já que $\frac{72}{10} = 7,2$.

BBC News Brasil. 15/08/2019. Disponível em:
<https://www.bbc.com/portuguese/geral-49352390>. Acesso em: 10
 mai. 2023.

Com base nessas informações, comparado com o cálculo de Pacioli, o tempo para que o investimento dobre, a uma taxa de 10%, é, aproximadamente,

Use:

$$\text{Log } 2 = 0,301 \text{ e } \text{Log } 11 = 1,041$$

- (A) 0,141 anos superior.
 (B) 0,141 anos inferior.
 (C) 0,136 anos superior.
 (D) 0,136 anos inferior.

QUESTÃO 16

Como forma de comemoração da conquista do campeonato, por parte de um time da cidade, a torcida resolveu vestir o mascote do time, um boneco em forma de pássaro, durante os próximos 60 jogos, cada vez com uma combinação diferente de vestuário, sem repetir. O mascote será vestido sempre com uma camisa, um par de chuteiras e um boné. Para a camisa, serão usados dois modelos possíveis, uma vez que correspondem aos usados pelos próprios jogadores do time. O mascote também já dispõe de três pares de chuteiras e a torcida resolveu usá-las também. Restam, portanto, os bonés, os quais serão confeccionados em quantidade suficiente para atender as condições da comemoração. Desse modo, a quantidade mínima de bonés que devem ser confeccionados é

- (A) 6.
 (B) 10.
 (C) 12.
 (D) 15.

QUESTÃO 17

O gerente de uma rede de lanchonetes ficou responsável por gerenciar duas filiais da rede, na mesma cidade: a lanchonete do shopping e da rodoviária. Desse modo, como ele utilizava sempre os mesmos caminhos, passou a registrar as distâncias percorridas, diariamente, ao sair de sua casa e ao se deslocar entre uma filial e outra. Quando ele sai de sua casa em direção à lanchonete do shopping e, depois, dirige-se à da rodoviária, percorre 6 km. Mas, quando parte de sua casa até a filial da rodoviária e, depois, dirige-se à do shopping, percorre 8,2 km. Certo dia, porém, depois de ter chegado à loja do shopping, a partir de sua casa, notou estar sem seus documentos pessoais. Assim, finalizou os trabalhos nesta filial, voltou até sua casa e depois, foi até a lanchonete da rodoviária, percorrendo assim 10,6 km, ao todo. Caso o gerente realize o percurso de sua casa até a filial do shopping, depois dirija-se para a filial da rodoviária e, por fim, dirija-se até sua casa, a distância percorrida nesse percurso, em km, corresponde a

- (A) 8,26.
 (B) 10,10.
 (C) 11,00.
 (D) 18,80.

QUESTÃO 18

Marcando os pontos médios dos lados do quadrado ABCD, construiu-se o quadrado EFGH, com vértices nesses pontos médios. Com o mesmo procedimento, a partir dos pontos médios dos lados do quadrado EFGH, construiu-se o quadrado IJKL e, assim sucessivamente, seguiu-se construindo uma sequência de quadrados. Os lados de cada um desses quadrados, a partir de ABCD, formam uma progressão geométrica de razão igual a

- (A) $\frac{\sqrt{2}}{2}$.
 (B) $\frac{\sqrt{2}}{4}$.
 (C) $\frac{1}{2}$.
 (D) $\frac{1}{4}$.

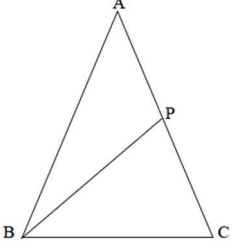
QUESTÃO 19

Certo tipo de papel retangular é fabricado de modo que possa ser fracionado em retângulos menores, de mesmo tamanho, os quais são chamados de folhas, na papelaria, para facilitar a venda. O dono de uma papelaria pegou, então, uma folha, a dividiu em três partes iguais, dando duas para seu sobrinho. Por sua vez, o sobrinho recortou cada pedaço em cinco partes iguais e colou nove delas em seu caderno, uma ao lado da outra. Ao observar a colagem do sobrinho, o dono da papelaria disse que os pedaços juntos representavam $\frac{1}{20}$ do papel original. Desse modo, originalmente, o papel estava fracionado em

- (A) terços.
 (B) décimos.
 (C) 12 avos.
 (D) 48 avos.

RASCUNHO**QUESTÃO 20**

Leia o texto a seguir.



Triângulos companheiros

Considerando o triângulo ABC, isósceles de base BC, com ângulos medindo 36° , 72° e 72° , marcamos o ponto P em AC, tal que $BP=BC$.

Desse modo, os dois triângulos obtidos, ABP e BCP, são chamados triângulos companheiros, pois apresentam características peculiares entre eles e estritamente relacionadas ao triângulo original, ABC.

BARBOSA, R. M. *Conexões e educação matemática: brincadeira, explorações e ações*. Belo Horizonte: Autêntica, 2009. [Adaptado].

Com base nessas informações, a medida dos ângulos dos triângulos BCP e ABP são, respectivamente, em graus:

- (A) 30, 60 e 90; e 60, 60 e 30.
 (B) 45, 45 e 90; e 60, 60 e 60.
 (C) 36, 36 e 72; e 72, 72 e 36.
 (D) 36, 72 e 72; e 36, 36 e 108.

RASCUNHO

QUESTÃO 21

A Cidade de Goiás, fundada no século XVIII às margens do Rio Vermelho, foi a primeira capital goiana. Porém, recebeu o nome de Cidade de Goiás somente em 1818. Seu primeiro nome era

- (A) Arraial do Ouro Fino.
- (B) Arraial de Meia Ponte.
- (C) Arraial de Sant'Ana.
- (D) Arraial de Santa Cruz.

QUESTÃO 22

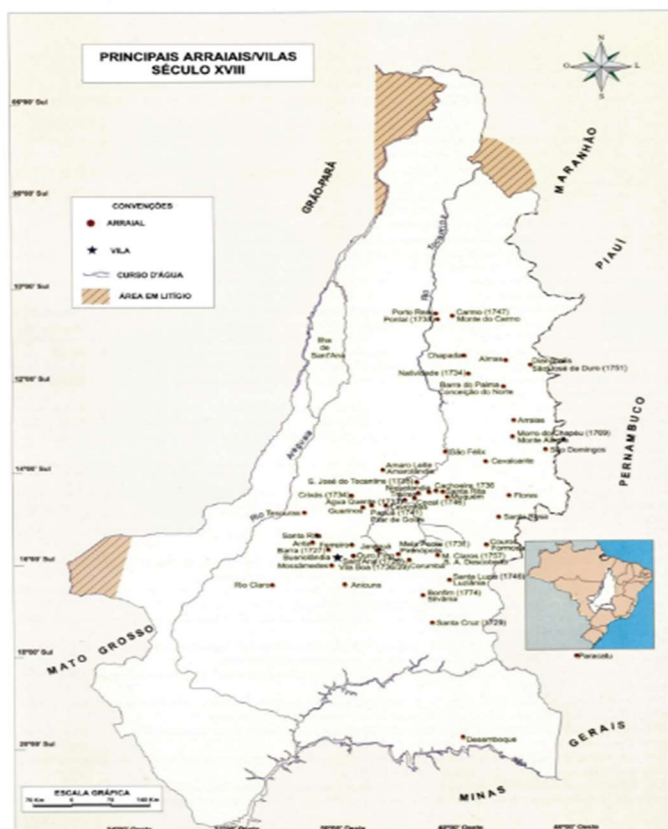
Uma melhoria muito esperada em Goiás, no século XIX, efetivada somente em 1912 e entendida como um dos fatores principais para o crescimento e dinamização do comércio em Goiás no início do século XX, que veio facilitar a exportação e importação de produtos, foi

- (A) o comércio fluvial.
- (B) a construção das primeiras rodovias.
- (C) a construção de pontes interligando o estado.
- (D) a chegada da ferrovia.

QUESTÃO 23

Observe a imagem a seguir.

36 • Atlas Histórico: Goiás Colonial



Disponível em <file:///Atlas%20Hist%C3%B3rico%20Goi%C3%A1s%20Pr%C3%A9-Colonial.pdf>. Acesso em: 26 mai. 2023.

Na imagem tem-se o mapa da capitania de Goiás no século XVIII. Percebe-se, por ele, que o território goiano foi muito maior que seu tamanho atual. Goiás, nos séculos XVIII e XIX perdeu regiões para o Pará, Maranhão, Mato Grosso e Minas Gerais. No século XX, as perdas mais significativas se deram com a criação do Distrito Federal e o estado do Tocantins. A região perdida pela capitania, em 1816, foi

- (A) Carolina, para o Maranhão.
- (B) Santana do Paranaíba, para Mato Grosso.
- (C) Triângulo Mineiro, para Minas Gerais.
- (D) São João das Duas Barras, para o Pará.

QUESTÃO 24

A arte sacra em Goiás, no século XIX, teve um goiano como seu principal expoente. Suas esculturas em madeira, depois pintadas com admirável técnica, fez desse santeiro o principal artista sacro de nosso estado, com muitas de suas obras expostas no Museu de Arte Sacra da Boa Morte, na Cidade de Goiás. O nome desse artista era

- (A) José Joaquim da Veiga Valle.
- (B) Cincinato da Mota Pedreira.
- (C) Henrique da Veiga Jardim.
- (D) Cândido de Cássia Oliveira.

QUESTÃO 25

Em 24 de outubro de 1933 houve o lançamento da pedra fundamental de Goiânia, a nova capital de Goiás. Em 7 de novembro de 1935, realizou-se a "mudança provisória", quando o governador Pedro Ludovico Teixeira deixou Goiás, passando a residir em Goiânia. Em 18 de março de 1937, por meio do Decreto nº 1.816, determinou-se a mudança definitiva da sede administrativa do estado, da Cidade de Goiás para Goiânia. Porém, a inauguração da cidade e sua apresentação para o país se daria cinco anos depois, em 1942, quando se realizou

- (A) o lançamento da pedra fundamental do Palácio das Esmeraldas.
- (B) o Batismo Cultural, com grandes festas, e a realização de vários congressos de ordem nacional.
- (C) o ato de nomeação de Venerando de Freitas Borges para prefeito de Goiânia.
- (D) o descerramento da placa de inauguração do Lago das Rosas, cartão postal da nova capital.

QUESTÃO 26

O *Windows 10* é o Sistema Operacional (S.O.) da *Microsoft* lançado em 2015. A principal função de um S.O. é

- (A) gerenciar e administrar todos os recursos de um sistema, incluindo sistemas de arquivos e componentes de *hardware*.
- (B) atuar como um *software* de criação de imagens 3D.
- (C) detectar e eliminar os vírus do computador.
- (D) realizar a limpeza de arquivos e apagá-los automaticamente.

QUESTÃO 27

O *Excel* é um aplicativo de criação e gerenciamentos de planilhas eletrônicas, além de também ser possível criar gráficos. O comando que cria automaticamente um gráfico de barras em uma nova guia a partir das células selecionadas de uma planilha, é:

- (A) ALT + F1.
- (B) Menu Inserir – Gráficos.
- (C) F11.
- (D) CTRL + F4.

QUESTÃO 28

O *Microsoft Power Point* é uma ferramenta para a criação de apresentações eletrônicas, sendo que com ele é possível combinar textos, imagens, áudios e gráficos, permitindo que o usuário personalize a apresentação de acordo com as suas necessidades. A função do slide mestre em uma apresentação do *Power Point* é

- (A) criar texto artístico.
- (B) armazenar informações sobre os *layouts* de tema, incluindo a tela de fundo, cor, fonte, efeitos e o tamanho do slide.
- (C) criar um modelo de apresentação a partir de um texto disponível em uma página da internet.
- (D) transformar a apresentação em um arquivo de vídeo.

RASCUNHO**QUESTÃO 29**

Software livre é um termo que se refere a um programa de computador que pode ser utilizado, modificado e distribuído livremente, sem restrições de uso ou de acesso ao código que compõe o programa – código-fonte. É um programa considerado *software* livre o

- (A) *LibreOffice Writer*.
- (B) *LibreOffice Ret*.
- (C) *Windows*.
- (D) *Corel Draw*.

QUESTÃO 30

No processador de texto, a numeração de página vem para auxiliar na organização do documento. No *Microsoft Word*, podemos adicionar essa numeração pelo comando:

- (A) Menu Correspondências – Paginação – Escolha o alinhamento.
- (B) Menu Referências – Número de Página – Escolha o alinhamento.
- (C) Menu Inserir – Número de Página – Escolha o alinhamento.
- (D) Menu Exibir – Paginação – Escolha o alinhamento.

RASCUNHO

QUESTÃO 31

Leia os dados hipotéticos a seguir sobre determinado município para o ano de 2022.

População total	500.000
Óbitos em menores de 1 ano	800
Óbitos em menores de 28 dias	80
Óbitos em menores de 7 dias	50
Óbitos entre 7 e 27 dias de vida	30
Óbitos entre 28 dias até 1 ano de vida	720
Total de nascidos vivos	8000

Analisando esses dados, o resultado do cálculo do coeficiente de mortalidade neonatal tardia é:

- (A) 3,75 por 1000.
- (B) 6,25 por 1000.
- (C) 90 por 1000.
- (D) 100 por 1000.

QUESTÃO 32

Um princípio central da Política Nacional de Humanização (PNH) do Ministério da Saúde do Brasil é

- (A) a clínica ampliada.
- (B) a transversalidade.
- (C) a cogestão.
- (D) o acolhimento.

QUESTÃO 33

O Sistema de Vigilância de Fatores de Risco e Proteção para Doenças Crônicas por Inquérito Telefônico (Vigitel)

- (A) aborda a população de 13 a 15 anos.
- (B) existe desde 2001 na região sudeste.
- (C) é realizado anualmente.
- (D) monitora os fatores de risco para a tuberculose.

QUESTÃO 34

Uma das medidas de associação em um estudo de coorte evidenciou ao gestor de saúde e à sua equipe qual seria a proporção de baixo peso ao nascer que poderia ser eliminada se o tabagismo fosse removido nas gestantes acompanhadas do município onde atuam. A medida é chamada de

- (A) *odds ratio*.
- (B) razão de prevalência.
- (C) risco relativo.
- (D) risco atribuível percentual.

QUESTÃO 35

Um dos princípios do Sistema Único de Saúde (SUS) é entendido como conjunto articulado e contínuo das ações e serviços preventivos e curativos, individuais e coletivos, exigidos para cada caso em todos os níveis de complexidade do sistema. Esse é o princípio da

- (A) universalidade de acesso aos serviços de saúde.
- (B) igualdade da abordagem assistencial.
- (C) integralidade da assistência.
- (D) descentralização dos serviços.

QUESTÃO 36

De acordo com o Ministério da Saúde do Brasil, um caso de violência doméstica deve ser notificado para a Secretaria Municipal de Saúde em até

- (A) 1 dia.
- (B) 2 dias.
- (C) 4 dias.
- (D) 7 dias.

QUESTÃO 37

Nas Redes de Atenção à Saúde (RAS), o centro de comunicação é a

- (A) unidade de urgência/emergência.
- (B) atenção primária à saúde.
- (C) atenção secundária à saúde.
- (D) atenção terciária à saúde.

QUESTÃO 38

Um dos métodos utilizados para a verificação de ocorrência de uma epidemia consiste na representação gráfica da distribuição da média mensal e desvios-padrão dos valores da frequência observada em um período de tempo. Esse método é chamado de

- (A) diagrama de controle.
- (B) índice de ataque.
- (C) gráfico estacional.
- (D) explosão linear.

QUESTÃO 39

É um atributo essencial da Atenção Primária à Saúde, de acordo com a publicação do Ministério da Saúde intitulada "Carteira de Serviços da Atenção Primária à Saúde" (2020), a

- (A) orientação familiar.
- (B) orientação comunitária.
- (C) competência cultural.
- (D) longitudinalidade.

QUESTÃO 40

Uma estratégia para aumentar a sensibilidade de um teste diagnóstico é

- (A) usar testes em paralelo.
- (B) aumentar a sua especificidade.
- (C) realizar os testes de maneira seriada.
- (D) aumentar os valores do ponto de corte do teste.

RASCUNHO**RASCUNHO**

QUESTÃO 41

Nas disortografias, a substituição de letras em razão da possibilidade de representações múltiplas é percebida na escrita da palavra

- (A) "queicho" no lugar de "queixo".
- (B) "chuveu" no lugar de "choveu".
- (C) "perdi" no lugar de "perdido".
- (D) "derepente" no lugar de "de repente".

QUESTÃO 42

A Logoaudiometria é um teste que avalia a habilidade do indivíduo para detectar e reconhecer a fala. Quando a classificação do Índice Percentual de Reconhecimento de Fala (IPRF) está abaixo de 50%, significa que o indivíduo apresenta uma

- (A) discreta dificuldade para compreender a fala.
- (B) moderada dificuldade para compreender a fala.
- (C) acentuada dificuldade para acompanhar uma conversa.
- (D) incapacidade de acompanhar uma conversa.

QUESTÃO 43

Segundo a Organização Mundial da Saúde (2020), na perda auditiva SEVERA o indivíduo tem dificuldade de fazer parte de uma conversa, pois não ouve a maioria das palavras que as pessoas falam. A média entre as frequências de 500 Hz, 1 kHz, 2 kHz e 4 kHz desses indivíduos está entre

- (A) 20 < 35 dB.
- (B) 35 < 65 dB.
- (C) 65 < 80 dB.
- (D) 80 < 95 dB.

QUESTÃO 44

No tratamento do paciente disfágico são utilizadas manobras compensatórias no processo de reabilitação da deglutição que visam a minimizar os riscos de penetração e/ou aspiração laringea. A manobra que aumenta a força da porção posterior da língua para reduzir o acúmulo de alimento na valécula é a

- (A) supraglótica.
- (B) cabeça fletida.
- (C) supersupraglótica.
- (D) deglutição com esforço.

QUESTÃO 45

A educação de crianças surdas é uma meta a ser alcançada. Existem diferentes abordagens de trabalho clínico e educacional. Qual proposta educacional pressupõe que os surdos desenvolvam competência em duas línguas: a Língua de Sinais e a utilizada pela comunidade ouvinte?

- (A) Oralismo.
- (B) Bilinguismo.
- (C) Bimodalismo.
- (D) Comunicação total.

QUESTÃO 46

Durante a realização da audiometria tonal pode haver uma assimetria entre os limiares auditivos de uma orelha e outra decorrente da possibilidade de ocorrer a lateralização do som. O nome do procedimento indicado no qual há a elevação artificial dos limiares da orelha não testada para que ela não interfira nas respostas da orelha que se quer testar é

- (A) o mascaramento.
- (B) a timpanometria.
- (C) o teste de Weber.
- (D) a pesquisa do reflexo acústico.

QUESTÃO 47

A tuba auditiva do bebê encontra-se posicionada horizontalmente desde o ouvido médio até a nasofaringe. Esse aspecto estrutural contribui para o aumento de ocorrência de

- (A) regurgitação.
- (B) respiração oral.
- (C) reflexo de busca.
- (D) infecção do ouvido médio.

QUESTÃO 48

Qual é o exame indicado para a realização da Triagem Auditiva Neonatal (TAN)?

- (A) Potencial Evocado Auditivo de Tronco Encefálico.
- (B) Audiometria Tonal.
- (C) Timpanometria.
- (D) Acumetria.

QUESTÃO 49

A Classificação Internacional de Funcionalidade, Incapacidade e Saúde (CIF) é um modelo para a organização e documentação de informações sobre funcionalidade e incapacidade, acordado pela Assembleia Mundial da Saúde em 2001. Segundo as diretrizes éticas para o uso da CIF, as informações

- (A) geradas não requerem o conhecimento, a cooperação e o consentimento da pessoa cujo nível de funcionalidade está sendo classificado no contexto clínico.
- (B) codificadas são impessoais, não exigindo confidencialidade dos dados coletados.
- (C) derivadas do seu uso não devem ser empregadas para negar direitos estabelecidos.
- (D) descritas não devem ser usadas para o desenvolvimento de políticas sociais que visem ao suporte de um indivíduo.

QUESTÃO 50

Quais características da musculatura da face na paralisia facial central podem ser percebidas na avaliação clínica?

- (A) Paralisia completa dos músculos frontais, corrugador do supercílio, orbicular do olho, orbicular da boca, bucinador e platisma.
- (B) Movimentação dos músculos frontais, corrugador do supercílio e orbicular do olho e paralisia do músculo orbicular da boca, bucinador e platisma.
- (C) Paralisia dos músculos frontais, corrugador do supercílio e orbicular do olho e movimentação do músculo orbicular da boca, bucinador e platisma.
- (D) Movimentação diminuída dos músculos frontais, corrugador do supercílio, orbicular do olho, orbicular da boca, bucinador e platisma.

QUESTÃO 51

Observe a imagem a seguir.



Disponível em:
<<https://repositorio.ul.pt/bitstream/10451/42960/1/FabioASimoes.pdf>>.
Acesso em: 21 mai. 2023.

Esta imagem da laringe obtida através de laringoscopia estroboscópica que apresenta uma lesão de massa unilateral, de configuração exofítica a partir da borda livre e de coloração avermelhada evidencia um quadro de

- (A) tumor bilateral.
- (B) lesão traumática.
- (C) nódulo.
- (D) pólipos.

QUESTÃO 52

Os cuidados paliativos têm como objetivo a prevenção e o alívio do sofrimento, melhorando a comunicação e o sinergismo com a terapêutica curativa. O papel do Fonoaudiólogo na atuação de pacientes com cuidados paliativos é o de

- (A) contribuir para o conforto ao deixar a oferta via oral da forma mais segura possível, controlando a postura, o volume e a consistência alimentar.
- (B) solicitar exames de imagens e exames laboratoriais para verificar critérios para indicar dieta oral de conforto.
- (C) indicar alta hospitalar para diminuição do sofrimento do paciente e de seus familiares, visando o conforto.
- (D) realizar exercícios ativos, de força e resistência dos órgãos fonoarticulatórios, visando a cura da disfagia.

QUESTÃO 53

A prematuridade é um dos fatores de risco mais frequentes nas UTI neonatais e é a base das dificuldades encontradas no desenvolvimento desses bebês que não tiveram a oportunidade de completar o amadurecimento esperado durante a vida intrauterina. Além da estabilidade clínica, os critérios adotados para início da transição da alimentação para via oral são:

- (A) aceitação de dieta enteral, suporte de ventilação com pressão positiva e idade corrigida < 40 semanas.
- (B) saturação de oxigênio a partir de 88%, frequência cardíaca entre 60 e 80 bpm e capacidade de sucção.
- (C) adaptação com a dieta parenteral, idade corrigida ≥ 40 semanas e frequência cardíaca entre 80 e 90 bpm.
- (D) coordenação sucção-deglutição-respiração, idade corrigida ≥ 32 semanas e frequência cardíaca entre 100 e 170 bpm.

RASCUNHO

QUESTÃO 54

A via oral é o modo preferencial de nutrição. Entretanto, diante da impossibilidade do uso dessa via, o fonoaudiólogo, junto à equipe de cuidado, é responsável pela definição da via nutricional mais segura, além do tipo e do volume da dieta a ser administrada. Os pacientes disfágicos que utilizam sondas nasoeserais

- (A) são acometidos com refluxo do conteúdo contaminado do esôfago para a faringe.
- (B) devem estar em uso de anticoagulante para a realização de gastrostomia.
- (C) apresentam acúmulo de secreções na faringe.
- (D) devem realizar a gastrostomia, se tiverem previsão de permanência de uso de sonda nasoeserial por até 2 semanas.

QUESTÃO 55

A Iniciativa Internacional de Padronização de Dietas para Disfagia (IDDSI - *International Dysphagia Diet Standardisation Initiative*) foi fundada com o objetivo de desenvolver uma nova terminologia e definições padronizadas a nível global para descrever as consistências adaptadas de alimentos e líquidos espessados utilizados para indivíduos com disfagia. Segundo a definição IDDSI, o alimento no nível 5 e no nível 2 são, respectivamente:

- (A) alimento moído e úmido; líquido levemente espessado.
- (B) alimento pastoso; líquido moderadamente espessado.
- (C) alimento macio e picado; líquido muito levemente espessado.
- (D) alimento liquidificado; líquido moderadamente espessado.

QUESTÃO 56

Segundo a classificação de Boston, a afasia considerada fluente, caracterizada por compreensão preservada e repetição alterada, é a afasia

- (A) de Wernicke.
- (B) de condução.
- (C) motora.
- (D) anômica.


RASCUNHO**QUESTÃO 57**

A disartria é definida como um grupo de alterações resultantes de distúrbios no controle muscular do mecanismo da fala devido a um dano no sistema nervoso central ou periférico. A disartria que acomete os núcleos da base e os núcleos do tronco encefálico é a

- (A) flácida.
- (B) espástica.
- (C) atáxica.
- (D) hipocinética.

QUESTÃO 58

Analise a audiometria tonal a seguir.



Disponível em: <https://www.scielo.br/j/acr/a/ssLw6chXD3Gbx6szBMT4sx/?lang=pt#>
Acesso em: 21 mai. 2023

Os resultados do exame sugerem que o paciente apresenta perda auditiva

- (A) mista bilateral.
- (B) induzida por ruído (PAIR).
- (C) condutiva na orelha esquerda e mista na orelha direita.
- (D) mista na orelha esquerda e neurosensorial na orelha direita.

QUESTÃO 59

A Unidade de Terapia Intensiva (UTI) é um ambiente de trabalho que requer o manejo do tratamento e conduta ao paciente crítico de forma criteriosa e segura, beneficiando a qualidade do atendimento e minimizando os riscos de eventos adversos. Nas Unidades de Terapia Intensiva, qual a atuação do fonoaudiólogo na higiene oral do cliente internado, segundo o Parecer CFFa nº 51, de 18 de fevereiro de 2022?

- (A) Comunicar o enfermeiro quando ocorrer evento adverso relacionado à higienização oral do cliente para que ele possa notificar o evento.
- (B) Preparar a cavidade oral, por meio de higienização oral adequada, antes de iniciar a intervenção fonoaudiológica, para garantir a biossegurança nos procedimentos.
- (C) Manter a cavidade oral, por meio de higienização oral adequada, três vezes ao dia na unidade de terapia intensiva.
- (D) Usar e prescrever produtos farmacológicos e/ou não farmacológicos indicados para a higiene oral.

QUESTÃO 60

Segundo a classificação da má-oclusão de Angle, a oclusão na qual a cúspide mesiovestibular do primeiro molar superior permanente oclui no sulco mesiovestibular do primeiro molar inferior permanente é a

- (A) Classe I.
- (B) Classe II – Divisão I.
- (C) Classe II – Divisão II.
- (D) Classe III.

RASCUNHO**RASCUNHO**